



Вводный урок



1. Один из первых материалов для письма
2. Наука, изучающая прошлое человечества по вещественным остаткам.
3. Наука, изучающая прошлое человечества.
4. Сторона света, располагающаяся на карте сверху.
5. Важное изобретение человечества, появившееся около 5000 лет назад.
6. То, откуда мы получаем что-либо (например, сведения)

§ 3 Искусство и религия первобытных людей



По горизонтали:

1. Сверхъестественные существа
2. Бессмертное существо, живущее в каждом человеке.
3. Изображение Бога из камня или дерева.
4. Пещера, в которой впервые были найдены рисунки первобытных людей.
5. Вера в сверхъестественное.
6. Подарок Богам.

По вертикали:

1. Животное, которое часто изображали древние люди.
2. Предмет, который наделяли особой силой, призванный помогать.
3. Страна, в которой находилась пещера, где впервые были найдены рисунки первобытных людей.
4. Просьба Бога о чём-либо.

§ 42 Поход А. Македонского на Восток

1. Заполните пропуски в тексте.

В _____ году до н.э. А. Македонский решил продолжить дело отца и организовал поход в Азию против _____.

Войско персов возглавил _____.

Первое сражение произошло в _____ году до н.э. у реки _____.

Второе – в _____ году до н.э. у города _____.

Третье – в _____ году до н.э. у города _____.

Во всех сражениях победили _____.

Покорив Египет, Александр Македонский основал на острове _____ новый город и назвал его _____.

Подчинив себе Персию, Александр присоединил огромную территорию, в том числе _____.

Стремясь завоевать весь мир, А. Македонский со своей армией дошёл на востоке до реки _____, желая подчинить

располагавшуюся за рекой страну _____.

Но подчинить её не сумел, так как _____.

Здесь македоняне впервые столкнулись с боевыми _____.

В _____ году до н.э. Македонский повернул войско назад. На обратном пути в городе _____ он умер.

Поход длился _____ лет.

2. Кем были эти люди?

Парменион - _____

Клит - _____

§ 51 Восстание Спартака

I. Исправьте ошибки в тексте:

Вторая гражданская война в Риме была связана с восстанием рабов. Восстание начали рабы в 71 г. до н.э., работавшие в каменоломнях в городе Помпеи. Руководил восстанием сириец Спартак. Восставшие бежали из тюрьмы и укрылись на вулкане Этна. Сенат послал против них войско, но восставшие сплели лестницы из веревок, спустились по ним с отвесной горы и разбили отряд римлян.

Спартак повёл своё войско к Апеннинским горам, чтобы рабы смогли вернуться домой. Сенат направил против восставших огромную армию с двумя консулами. Но рабы разбили войска консулов поодиночке. Новую победу Спартак одержал в долине реки Тибр в провинции Галлия. Затем восставшие внезапно повернули назад, чтобы поднять восстание рабов на о. Сардиния. Помощь им обещали местные жители, но обманули, не предоставив им оружие.

II. Вставьте пропущенные слова:

На подавление восстания сенат направил новое войско во главе с полководцем _____, который в самом узком месте _____ полуострова построил укрепления, отрезав путь восставшим к отступлению. Прорваться сквозь укрепления и римские легионы удалось немногим. На помощь римскому войску сенат послал полководцев _____ и _____. В последнем сражении с ними в _____ г. до н.э. Спартак погиб. Восстание было подавлено.

§ 52 Единовластие Цезаря в Риме

Найдите в тексте 10 ошибок и справьте их (подчеркните ошибку, пронумеруйте сверху и напишите правильный ответ на строках внизу)

В I век до н.э. армия стала наёмной, в неё набирали из иностранных граждан. Консулы с трудом справлялись с управлением государством и всё чаще командование войсками передавали народным трибунам. Власть их постепенно росла, главными соперниками стали Красс и Помпей.

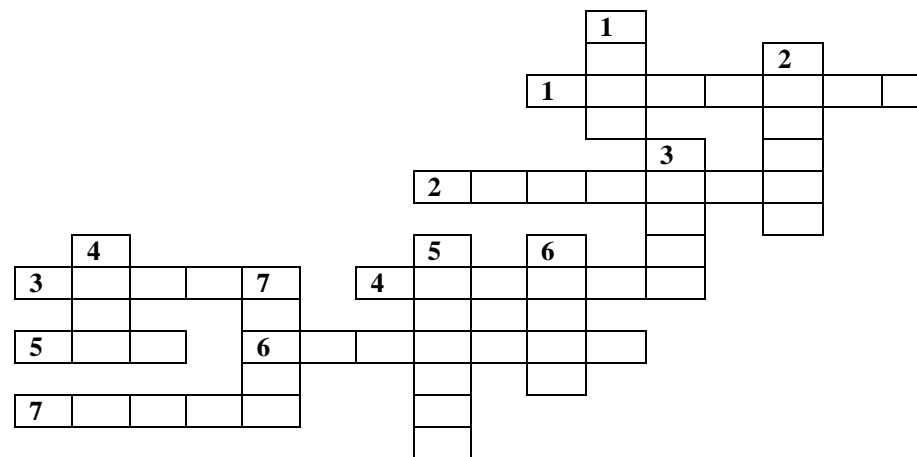
В эти же годы выдвинулся полководец Цезарь, главной мечтой которого стала власть. Сначала он был избран консулом. Его поддерживала беднота, которую он тоже любил, и ветераны – так в Риме называли бывших консулов. За десять лет Цезарь завоевал Предальпийскую Галлию.

В 44 г. до н.э. послушавшись приказа сената, Цезарь перешёл с войском реку Тибр и захватил власть в Риме. Ему было присвоено звание пожизненного императора. Но в 49 г. до н.э. он был убит заговорщиками, среди которых был его сын – Брут.

1. _____
2. _____
3. _____
4. _____
5. _____
6. _____
7. _____
8. _____
9. _____
10. _____

§ 57, 58

Расцвет империи в Риме



По горизонтали:

1. Бедняки от императоров требовали хлеба и ...
2. Храм всех богов в Риме.
3. Римский историк
4. Бедняки, получившие землю в пользование за часть урожая.
5. Вечный город.
6. Арочный мост для водопровода.
7. Строительная смесь из песка, извести и мелких камней.

По вертикали:

1. Для конных бегов в Риме был построен Большой...
2. Жилище раба, которому дали землю.
3. Общественные бани.
4. Племена, жившие по левому берегу Дуная и завоёванные римлянами.
5. Самый большой амфитеатр в Риме.
6. Площадь в Риме.
7. «Лучший из императоров»